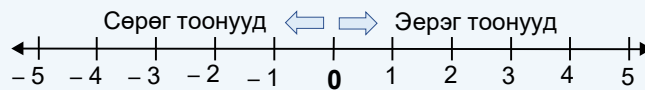




Сурагчийн нэр: .....

Эхэлсэн: ..... он ..... сар ..... өдөр

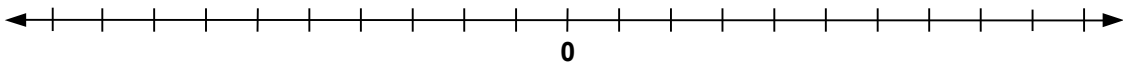


Тэг бол эерэг ч биш, сөрөг ч биш бүхэл тоо

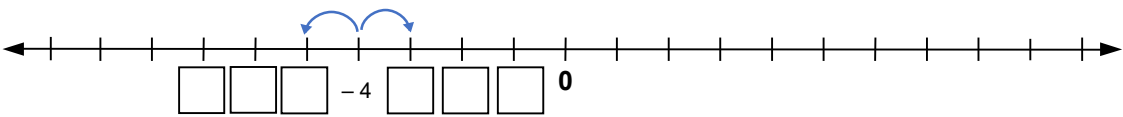
Эерэг тоонууд тэгээс их, сөрөг тоонууд тэгээс бага байдаг.

1 а. Дараах тоонуудыг тоон шулуун дээр тэмдэглээрэй.

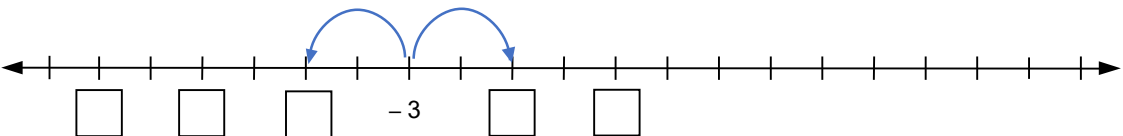
5, -7, -2, 6, -5



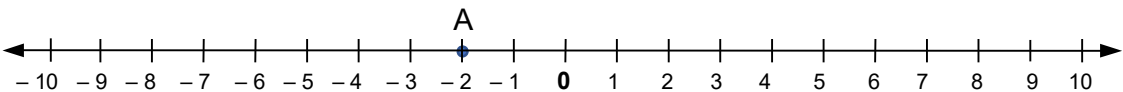
б. Дөрвөлжин нүдэнд тохирох тоог бичнэ үү.



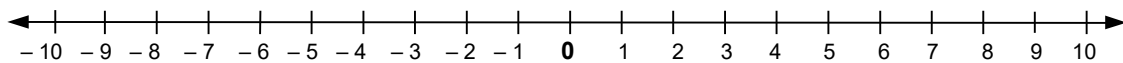
в.



2 а. А(-2) цэгээс 3 нэгж зайд орших цэгүүдийг тоон шулуун дээр тэмдэглээрэй.



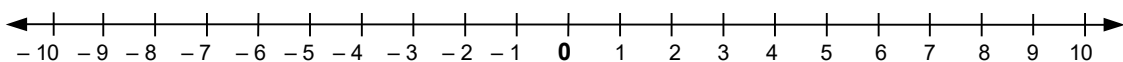
б. Тоон шулуун дээр -4-өөс 5 нэгжээр их тоог В цэгээр, 5 нэгжээр бага тоог С цэгээр тэмдэглээрэй.



3 Тоон шулуун хэрэглэн жишээрэй.

а.  $0 > 1$       б.  $0 \dots -1$       в.  $-4 \dots 0$       г.  $-7 \dots 0$       д.  $-4 \dots -2$

е.  $-3 \dots -1$       ё.  $-4 \dots -5$       ж.  $-2 \dots -10$       з.  $-6 \dots 4$       и.  $-4 \dots 2$



4 а. Тоон шулуун хэрэглэн өсөх эрэмбээр бичээрэй. -6, 4, -8

.....

б. Тоон шулуун хэрэглэн буурах эрэмбээр бичээрэй. 6, -9, -6

.....

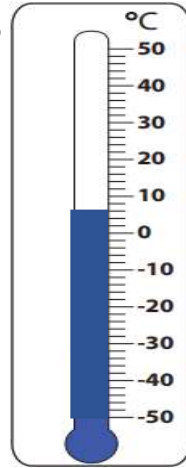
Дууссан: .....сар .....өдөр



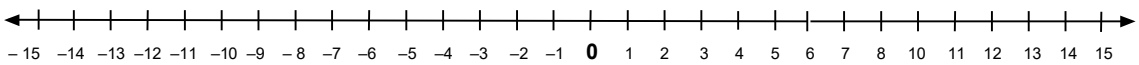
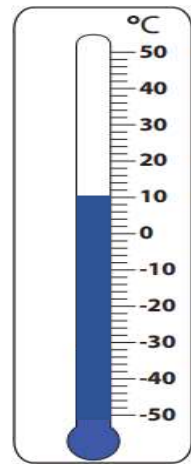
Даалгавар	1	2	3	4
Өөрийн үнэлгээ				

1 а. Нэгэн хотын агаарын хэм шөнийн 12 цагт болон өдрийн 1 цагт ямар байсныг термометрт харуулсан байна. Зургаас хараад шөнө ба өдрийн агаарын хэмийг олж тоон шулуун дээр тэмдэглээрэй. Өдрийн 1 цагт хэдэн хэмээр хэрхэн өөрчлөгдсөн байна вэ?

Шөнө



Өдөр



Хариулт: Өдөр  хэмээр .....

б. Өөр нэгэн хотод агаарын хэм өдрийн 1 цагт  $-10^{\circ}\text{C}$  байснаа шөнийн 12 цагт  $-15^{\circ}\text{C}$  болов. Агаарын хэм шөнөдөө хэдэн хэмээр буурсан бэ?

Хариулт: Шөнө  хэмээр буурсан.

2 Зөв хариултыг сонгоорой.

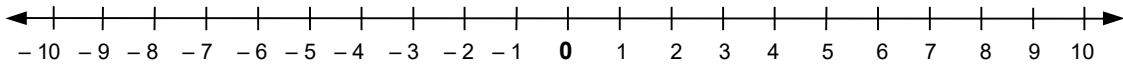
а. Агаарын хэм өдөртөө  $0^{\circ}\text{C}$  байв. Шөнөдөө 5 хэмээр буурсан бол шөнө агаарын хэм хэд болсон бэ?

- А. Шөнө агаарын хэм  $5^{\circ}\text{C}$  болж дулаарсан.
- Б. Шөнө агаарын хэм  $-5^{\circ}\text{C}$  болж хүйтэрсэн.

б. Агаарын хэм шөнөдөө  $0^{\circ}\text{C}$  байсан бол өдөртөө 8 хэмээр нэмэгдэв. Өдөртөө хэдэн хэм болсон бэ?

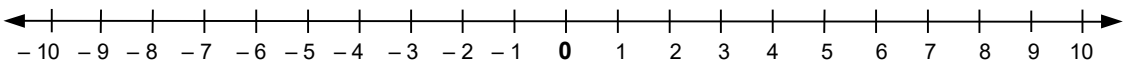
- А. Өдөртөө цаг агаар  $8^{\circ}\text{C}$  болж дулаарсан.
- Б. Өдөртөө цаг агаар  $-8^{\circ}\text{C}$  болж хүйтэрсэн.

3 Хүү сургуульдаа ирэх үед агаарын хэм  $-5^{\circ}\text{C}$  байв. Хүүг харих үед агаарын хэм  $-1^{\circ}\text{C}$  болсон. Агаарын хэм хэрхэн өөрчлөгдсөнийг тоон шулуун хэрэглэн тооцоолоорой.



- А. 6 хэмээр нэмэгдсэн.      Б. 4 хэмээр нэмэгдсэн.
- В. 4 хэмээр буурсан.      Г. 6 хэмээр буурсан.

4 Хотын агаарын хэм өглөөнөөс 4 хэмээр нэмэгдэж өдөртөө  $-10$  хэм болов. Хотод өглөө хэдэн хэм байсан бэ? Тоон шулуун дээр тооцоолоорой.



- А. -6                      Б. -14                      В. 6                      Г. 14

Дууссан: .....сар .....өдөр

Даалгавар	1	2	3	4
Өөрийн үнэлгээ				